

Lista de Exercícios Módulo 4 de SMA353-Cálculo I

Exercícios iniciais: 2, 3, 10, 11, 14, 17, 22 e 25.

Máximos, mínimos e pontos de inflexão

Exercício 1 (i) *Descreva os passos do método para encontrar máximo e mínimo globais para função contínua em intervalo fechado.*

(ii) *Determine o máximo e mínimo global nos intervalos fixados das seguintes funções. Use o método da função contínua no intervalo fechado. Note que aqui, neste método, não se analisa sinal de derivada.*

(a) $f(x) = \frac{2x^2 + 4x}{2 + x^2}$ no intervalo $[-1, 5]$;

(b) $f(x) = x^4 - 2x^3 + 2x$ no intervalo $[-1, 1]$;

(c) $f(x) = \sqrt[3]{x^2 - x^3}$ no intervalo $[0, 1]$;

(d) $f(x) = x \ln x$ no intervalo $[1/3, 2]$;

(iii) *Sobre o item (b), $f(x) = x^4 - 2x^3 + 2x$, responda:*

(b1) *Nos pontos de máximo e mínimo é sempre verdade que a derivada é zero? Ou seja, é sempre ponto crítico? Explique;*

(b2) *Se o intervalo fosse $[-1, 2]$, f teria máximo e mínimo globais? Quais seriam? Em quais pontos ocorrem?*

(b3) *Mude o intervalo para que o máximo e mínimo globais não tenham derivadas nulas.*

Exercício 2 (i) *Defina ponto crítico de $f(x)$.*

(ii) *Dê exemplo simples de uma $f(x)$ onde o ponto crítico não é máximo e nem mínimo.*

(iii) *Enuncie o teste da derivada primeira.*

(iv) *Quais as definições de máximos e mínimos globais (ou seja, absolutos) e máximos e mínimos locais (ou seja, relativos)?*

(v) *Para cada uma das funções f abaixo, determine os pontos de máximo e de mínimos locais (relativos) e os intervalos onde ela é crescente ou decrescente:*

a) $f(x) = x^2 + \frac{2}{x}$

b) $f(x) = \cos(x) - \cos^2(x)$

c) $f(x) = \frac{x}{(x^2 - 4)^{1/3}}$

d) $f(x) = \sqrt{x} - \frac{1}{\sqrt{x}}$

e) $f(x) = \ln(x^2 + 2)$

Exercício 3 (i) *Defina ponto de inflexão. O que concavidade tem a ver com a derivada segunda de f ? Explique.*

(ii) *Em cada um dos itens do Exercício 2 determine os pontos de inflexão e analise a concavidade.*

Exercício 4

- (a) Mostre que para todo $a, b > 0$ temos que $\ln(ab) = \ln(a) + \ln(b)$. Sugestão: use o fato que se $f'(x) = 0$ num intervalo, então f é constante nesse intervalo.
- (b) Pode existir uma função diferenciável, não constante, tal que $f'(x) = 0$ para todo x no seu domínio?
- (c) Mostre que a função $f(x) = x^3 + ax^2 + bx + c$, onde $a, b, c \in \mathbb{R}$ são constantes fixadas, não tem máximo ou mínimo se, e somente se, $a^2 \leq 3b$.
- (d) Determine as constantes $a, b \in \mathbb{R}$ de tal modo que a função do item (c) acima tenha como pontos críticos $x = -2$ e $x = 3$. Neste caso, em qual deles f terá um máximo?

Exercício 5

- (a) Mostre que os zeros da função $f(x) = \sin(x)$ são seus únicos pontos de inflexão.
- (b) Dê condições sobre a, b, c e d para que o gráfico de $f(x) = x^4 + ax^3 + bx^2 + cx + d$:
- não tenha ponto de inflexão;
 - tenha um único ponto de inflexão;
 - tenha, exatamente, dois pontos de inflexão.

Esboço de Gráficos

Exercício 6 Utilizando as técnicas do Cálculo Diferencial, faça um esboço do gráfico das seguintes funções:

$$\begin{array}{lll} \text{a) } f(x) = x^{1/5} - 1 & \text{b) } f(x) = 8x^{1/3} + x^{4/3} & \text{c) } f(x) = \sin(x) + \cos(x) \\ \text{d) } f(x) = e^{1/x} & \text{e) } f(x) = \frac{4x}{x^2 - 9} & \text{f) } f(x) = \frac{x^2 + x - 2}{2x - 1} \end{array}$$

Note que utilizando os passos do exercício 10, você deixará os gráficos mais precisos.

Exercício 7 Determine $\lim_{x \rightarrow a^+} f(x)$, $\lim_{x \rightarrow a^-} f(x)$, esboce o gráfico e identifique as assíntotas verticais e horizontais.

$$\text{a) } f(x) = \frac{8}{(2x+5)^5}, a = -5/2 \quad \text{b) } f(x) = \frac{3x^2}{(2x-9)^2}, a = 9/2 \quad \text{c) } f(x) = \frac{2x^2}{x^2-x-2}, a = -1, a = 2.$$

Exercício 8 Esboce o gráfico de uma função f que satisfaça:

- (a) f contínua, $f(0) = 4$, $f(2) = 2$, $f(5) = 6$, $f'(0) = f'(2) = 0$, $f'(x) > 0$ se $|x - 1| > 1$, $f'(x) < 0$ se $|x - 1| < 1$, $f''(x) < 0$ se $x < 1$ ou se $|x - 4| < 1$, $f''(x) > 0$ se $x > 5$ ou se $|x - 2| < 1$.
- (b) f contínua, $f(0) = 2$, $f(2) = 1$, $f(4) = f(10) = 0$, $f(6) = -4$, $f'(2) = f'(6) = 0$, $f'(x) < 0$ em $(-\infty, 4)$, $(4, 6)$ e $(10, \infty)$, $f'(x) > 0$ em $(6, 10)$, não existem $f'(4)$ e $f'(10)$, $f''(x) > 0$ em $(-\infty, 2)$, $(4, 10)$ e $(10, \infty)$, $f''(x) < 0$ em $(2, 4)$.
- (c) $f(2) = 4$, $f'(x) > 0$ se $x < 2$, $f'(x) < 0$ se $x > 2$, $f''(x) > 0$ se $x \neq 2$, $\lim_{x \rightarrow 2} |f'(x)| = +\infty$, $\lim_{x \rightarrow +\infty} f(x) = 2$, $\lim_{x \rightarrow -\infty} f(x) = 2$.

Exercício 9 *Determine os intervalos de crescimento e de decrescimento, calcule todos os limites necessários e esboce o gráfico de f , onde*

(a) $f(x) = x + \frac{2}{x^2}$

(b) $f(x) = \frac{2x^2 + 4x}{2 + x^2}$

(c) $f(x) = x^x, x > 0$

Exercício 10 *Para cada uma das funções abaixo*

- *determine $\text{Dom}(f)$;*
- *determine os pontos onde f intercepta o eixo x e o eixo y .*
- *determine os pontos críticos e intervalos de crescimento e decrescimento;*
- *determine os candidatos a pontos de inflexão e estude a concavidade e pontos de inflexão;*
- *faça uma tabela com sinais de f' e f'' , que justifiquem onde estão os máximos, mínimos e pontos de inflexão.*
- *determine se existem assíntotas verticais e horizontais;*
- *esboce o gráfico.*

(a) $f(x) = x \ln x$

(b) $f(x) = \frac{x^3}{1 + x^2}$

(c) $f(x) = xe^{-2x}$

Dica: Note que $\frac{x^3}{1 + x^2} = x - \frac{x}{1 + x^2}$.

Aplicações de Derivadas

Exercício 11 *Encontre o ponto da curva $y = 2/x, x > 0$ que está mais próximo da origem.*

Exercício 12 *Duas partículas P e Q movem-se, respectivamente, sobre os eixos Ox e Oy. A função posição de P é $x = \sqrt{t}$ e de Q é $y = t^2 - 3/4, t \geq 0$. Determine o instante em que a distância entre P e Q seja a menor possível.*

Exercício 13 *Mostre que se a, b, c, d forem inteiros positivos, então teremos*

$$\frac{(a^2 + 1)(b^2 + 1)(c^2 + 1)(d^2 + 1)}{abcd} \geq 16.$$

Exercício 14 Um vitral tem o formato de um retângulo encimado por um semi-círculo. O vidro utilizado na parte semi-circular é menos translúcido, de forma que a quantidade de luz que passa por unidade de área é $2/3$ do permitido pelo vidro da parte retangular. Sendo o perímetro do vitral fixado em 6m, calcule as medidas do vitral que permita maior passagem de luz.

Exercício 15 Use o teste da derivada primeira para provar que a mais curta distância de um ponto (x_1, y_1) á reta $ax + by + c = 0$ é dada por $d = \frac{|ax_1 + by_1 + c|}{\sqrt{a^2 + b^2}}$.

Exercício 16 Prove que a equação $x^3 - 3x^2 + 6 = 0$ admite uma única raiz real. Determine um intervalo de amplitude 1 que contenha tal raiz.

Exercício 17 Prove para quaisquer que sejam $x > 0$, $\text{sen } x > x - \frac{x^3}{3!}$.

Exercício 18 (a) Determine o número real positivo cuja soma com o inverso do seu quadrado seja mínima.

(b) Achar dois números positivos cuja soma é 16 e cujo produto é o máximo possível.

Exercício 19 Determine a altura do cone circular reto, de volume máximo, inscrito na esfera de raio R dado.

Exercício 20 Um jardim retangular de 50m^2 de área deve ser protegido contra animais. Se um lado do jardim já está protegido por uma parede de celeiro, quais as dimensões da cerca de menor comprimento?

Exercício 21 Deseja-se construir uma caixa, de forma cilíndrica, de 1m^3 de volume. Nas laterais e no fundo será utilizado material que custa 5,00 reais o m^2 e na tampa será utilizado material que custa 10,00 reais o m^2 . Determine as dimensões da caixa que minimizem o custo do material empregado.

Exercício 22 (IME) As arestas laterais de uma pirâmide regular com n faces têm medida l. Determine:

(a) a expressão do raio do círculo circunscrito à base, em função de l, de modo que o produto do volume da pirâmide pela sua altura seja máximo.

(b) a expressão desse produto máximo, em função de l e n.

Exercício 23 Uma partícula desloca-se sobre o eixo Ox com velocidade $v(t) = 2t - 3$, $t \geq 0$. Sabe-se que no instante $t = 0$ a partícula encontra-se na posição $x = 5$. Determine o instante em que a partícula estará mais próxima da origem.

Exercício 24 Um sólido será construído acoplando-se a um cilindro circular reto, de altura h e raio r, uma semi-esfera de raio r. Deseja-se que a área da superfície do sólido seja 5π . Determine r e h para que o volume do sólido seja máximo.

Exercício 25 Ao preço de R\$1,50 um vendedor ambulante pode vender 500 unidades de uma certa mercadoria que custa 70 centavos cada. Para cada centavo que o vendedor abaixa no preço, a quantidade vendida pode aumentar em 25 unidades. Que preço de venda maximizará o lucro?

Exercício 26 (IME) Considere uma esfera inscrita e tangente à base de um cone de revolução. Um cilindro está circunscrito à esfera de tal forma que uma de suas bases está apoiada na base do cone. Seja: V_1 o volume do cone e V_2 o volume do cilindro. Encontre o menor valor da constante k para o qual $V_1 = kV_2$. Sugestão: Considere o ângulo formado pelo diâmetro da base e a geratriz do cone em uma das extremidades deste diâmetro.

Exercício 1 (i) Para encontrar os valores máximos e mínimos globais de uma função contínua f num intervalo fechado $[a, b]$:

1. Encontre os valores de f nos pontos críticos de f em (a, b) ;
2. Encontre os valores de f nos extremos do intervalo;
3. O maior valor das etapas 1 e 2 é o valor máximo global e o menor desses valores é o mínimo global.

(ii) (a) $f'(x) = \frac{-4x^2+8x+8}{(2+x^2)^2}$, os pontos críticos de f são $\{1 - \sqrt{3}, 1 + \sqrt{3}\}$. Além disso, $f(-1) = -\frac{2}{3}$ e $f(5) = \frac{70}{27}$. Portanto, o mínimo global de f no intervalo $[-1, 5]$ é $x = 1 - \sqrt{3}$ e máximo global é $x = 1 + \sqrt{3}$.

(b) $f'(x) = 4x^3 - 6x^2 + 2$, os pontos críticos de f são $\{1, -\frac{1}{2}\}$. Além disso, $f(-1) = 1$ e $f(1) = 1$. Portanto, o mínimo global de f no intervalo $[-1, 1]$ é $x = -\frac{1}{2}$ e máximo global é $x = \{-1, 1\}$.

(c) $f'(x) = \frac{2x-3x^2}{3\sqrt[3]{(x^2-x^3)^2}}$, o ponto crítico de f é $\{\frac{2}{3}\}$. Além disso, $f(0) = 0$ e $f(1) = 0$. Portanto, o mínimo global de f no intervalo $[0, 1]$ é $x = \{0, 1\}$ e máximo global é $x = \frac{2}{3}$.

(d) $f'(x) = 1 + \ln x$, o ponto crítico de f é $\{\frac{1}{e}\}$. Além disso, $f(\frac{1}{3}) = -\frac{\ln 3}{3}$ e $f(2) = 2\ln 2$. Portanto, o mínimo global de f no intervalo $[\frac{1}{3}, 2]$ é $x = \frac{1}{e}$ e máximo global é $x = 2$.

(iii) (b1) Nem sempre é verdade. Pois como vimos no método descrito no item (i), para encontrar os valores máximos e mínimos globais de uma função contínua num intervalo fechado, os pontos de máximo e mínimos são tomados entre os pontos críticos (os quais a derivada se anula) e os pontos da extremidade do intervalo (os quais não necessariamente a derivada se anula). No caso do item (b), o ponto $x = -1$ é ponto de máximo global, entretando a derivada não se anula neste ponto.

(b2) $f'(x) = 4x^3 - 6x^2 + 2$, os pontos críticos de f são $\{1, -\frac{1}{2}\}$. Além disso, $f(-1) = 1$ e $f(2) = 4$. Portanto, o mínimo global de f no intervalo $[-1, 2]$ é $x = -\frac{1}{2}$ e máximo global é $x = 2$.

(b3) Considere o intervalo $[0, 2]$. $f'(x) = 4x^3 - 6x^2 + 2$, os pontos críticos de f são $\{1, -\frac{1}{2}\}$. Além disso, $f(0) = 0$ e $f(2) = 4$. Portanto, o mínimo global de f no intervalo $[0, 2]$ é $x = 0$ e máximo global é $x = 2$. Note que $f'(0) \neq 0$ e $f'(2) \neq 0$.

Exercício 2 (i) Um ponto $p \in \text{Dom}(f)$ é um ponto crítico de f se $f'(p) = 0$.

(ii) Considere $f(x) = x^3$, $p = 0$ é um ponto crítico de f , porém não é ponto de máximo nem de mínimo.

(iii) Seja f uma função contínua em (a, b) e $p \in (a, b)$ um ponto crítico de f . Suponha que f' exista em todos os pontos do intervalo (a, b) exceto possivelmente em p .

• Se $f'(x) > 0$, para $x \in (p - \delta, p)$ e $f'(x) < 0$, para $x \in (p + \delta, p)$, para algum $\delta > 0$, então f tem um máximo local em p .

• Se $f'(x) < 0$, para $x \in (p - \delta, p)$ e $f'(x) > 0$, para $x \in (p + \delta, p)$, para algum $\delta > 0$, então f tem um mínimo local em p .

(iv) Sejam f uma função e $p \in \text{Dom}(f)$. Dizemos que p é um ponto de máximo global de f se para todo $x \in \text{Dom}(f)$, $f(x) \leq f(p)$. Por outro lado, dizemos que p é um ponto de mínimo global de f se para todo $x \in \text{Dom}(f)$, $f(x) \geq f(p)$.

Dizemos que p é um ponto de máximo local de f se existir $r > 0$ tal que para todo $x \in (p - r, p + r) \cap \text{Dom}(f)$, $f(x) \leq f(p)$. Por outro lado, dizemos que p é um ponto de mínimo local de f se existir $r > 0$ tal que para todo $x \in (p - r, p + r) \cap \text{Dom}(f)$, $f(x) \geq f(p)$.

(v) (a) Temos que $f'(x) = 2(x - \frac{1}{x^2})$, assim $f'(0) = 0$ se, e somente se, $x = 1$.

Note ainda que, existe $f'(x)$, para todo $x \in \text{Dom}(f) = \mathbb{R} - \{0\}$, logo o único ponto crítico de f é $x = 1$.

Considerando os intervalos $A = (-\infty, 0)$, $B = (0, 1)$ e $C = (1, \infty)$, e em seguida escolhendo, por exemplo, $a = -1 \in A$, $b = \frac{1}{2} \in B$ e $c = 2 \in C$, obtemos que $f'(-1) = -4 < 0$, $f'(\frac{1}{2}) = -7 < 0$ e $f'(2) = \frac{7}{2} > 0$.

Concluimos assim que f é decrescente nos intervalos A e B , e crescente em C . Consequentemente, $x = 1$ é um ponto de mínimo e f não possui ponto de máximo.

(b) Temos que $f'(x) = \sin(x)(2\cos(x) - 1)$, assim $f'(x) = 0$ se, e somente se, $\sin(x) = 0$ ou $\cos(x) = \frac{1}{2}$.

Logo, x é um ponto crítico de f se, e somente se,

$$x \in \{k\pi; k \in \mathbb{Z}\} \cup \left\{ \frac{\pi}{3} + 2k\pi; k \in \mathbb{Z} \right\} \cup \left\{ \frac{5\pi}{3} + 2k\pi; k \in \mathbb{Z} \right\}.$$

Como f tem período 2π , vamos analisar a função apenas no intervalo $[0, 2\pi)$, pois f tem o mesmo comportamento em qualquer intervalo da forma $[2k\pi, 2(k+1)\pi)$, com $k \in \mathbb{Z}$.

Considere os subintervalos $A = (0, \frac{\pi}{3})$, $B = (\frac{\pi}{3}, \pi)$, $C = (\pi, \frac{5\pi}{3})$ e $D = (\frac{5\pi}{3}, 2\pi)$. Escolhendo, por exemplo, $a = \frac{\pi}{4} \in A$, $b = \frac{\pi}{2} \in B$, $c = \frac{3\pi}{2}$ e $d = \frac{11\pi}{6} \in D$, temos que $f'(a) = -\frac{2-\sqrt{2}}{2} > 0$, $f'(b) = -1 < 0$, $f'(c) = 1 > 0$ e $f'(d) = \frac{1-\sqrt{3}}{2} < 0$.

Portanto, f é crescente nos intervalos A e C , e decrescente em B e D . Logo, os pontos $\frac{\pi}{3}$ e $\frac{5\pi}{3}$ são máximos locais, enquanto que 0 e π são mínimos locais.

Generalizando, os pontos da forma $\frac{\pi}{3} + 2k\pi$ e $\frac{5\pi}{3} + 2k\pi$ são máximos locais, enquanto que $0 + 2k\pi$ e $\pi + 2k\pi$ são mínimos locais, para todo $k \in \mathbb{Z}$.

(c) Temos que $f'(x) = \frac{x^2-12}{3(x^2-4)^{\frac{4}{3}}}$. Assim, $f'(x) = 0$ se, e somente se, $x = \sqrt{12}$ ou $x = -\sqrt{12}$.

Note que esses são os únicos pontos críticos, pois $f'(x)$ existe para todo $x \in \text{Dom}(f) = \mathbb{R} - \{-2, 2\}$.

Testando o sinal de $f'(x)$ (escolha um x em cada intervalo e calcule), obtemos que $f'(x) > 0$, para todo $x \in (-\infty, -\sqrt{12}) \cup (\sqrt{12}, \infty)$ e $f'(x) < 0$, para $x \in (-\sqrt{12}, \sqrt{12}) - \{-2, 2\}$.

Portanto, f é crescente em $(-\infty, -\sqrt{12}) \cup (\sqrt{12}, \infty)$, e decrescente em $(-\sqrt{12}, \sqrt{12}) - \{-2, 2\}$, conseqüentemente, $-\sqrt{12}$ é máximo, enquanto que $\sqrt{12}$ é mínimo.

(d) Temos que $f'(x) = \frac{x+1}{2\sqrt{x^3}}$. Note que $\text{Dom}(f) = (0, \infty)$, logo $f'(x)$ existe e é diferente de zero, para todo $x \in \text{Dom}(f)$. Assim, f não possui pontos críticos. Além disso, $f'(x) > 0$ e portanto f é crescente em todo o seu domínio.

(e) Temos que $f'(x) = \frac{2x}{x^2+2}$. O único ponto crítico é $x = 0$. Note que, $f'(-1) < 0$ e $f'(1) > 0$, assim, f é decrescente em $(-\infty, 0)$ e crescente em $(0, \infty)$. Portanto, 0 é ponto mínimo.

Exercício 3 (i) Seja f contínua em $p \in \text{Dom}(f)$. Dizemos que p é ponto de inflexão de f se existem $a, b \in \mathbb{R}$ tais que $p \in (a, b)$ e p muda a concavidade da função, ou seja, $f|_{(a,p)}$ tem concavidade para cima e $f|_{(p,b)}$ tem concavidade para baixo ou $f|_{(a,p)}$ tem concavidade para baixo e $f|_{(p,b)}$ tem concavidade para cima.

Seja f uma função derivável até segunda ordem em (a, b) . Então,

- Se $f''(x) > 0$, para todo $x \in (a, b)$, então f tem concavidade para cima (côncava) em (a, b) ;
- Se $f''(x) < 0$, para todo $x \in (a, b)$, então f tem concavidade para baixo (convexa) em (a, b) .

(ii) (a) Ponto de inflexão em $x = -\sqrt[3]{2}$.

Concavidade para cima em $(-\infty, -\sqrt[3]{2})$.

Concavidade para baixo em $(-\sqrt[3]{2}, 0)$.

(b) Pontos de inflexão em $x = \arccos(\frac{1+\sqrt{33}}{8}) + 2\pi n$, $x = -\arccos(\frac{1+\sqrt{33}}{8}) + 2\pi n$, $x = \arccos(\frac{1-\sqrt{33}}{8}) + 2\pi n$, $x = -\arccos(\frac{1-\sqrt{33}}{8}) + 2\pi n$ com $n \in \mathbb{Z}$.

Concavidade para cima em $(-\arccos(\frac{1+\sqrt{33}}{8}) + 2\pi n, \arccos(\frac{1+\sqrt{33}}{8}) + 2\pi n)$ e $(\arccos(\frac{1-\sqrt{33}}{8}) + 2\pi n, -\arccos(\frac{1-\sqrt{33}}{8}) + 2\pi n)$, com $n \in \mathbb{Z}$.

Concavidade para baixo em $(\arccos(\frac{1+\sqrt{33}}{8}) + 2\pi n, \arccos(\frac{1-\sqrt{33}}{8}) + 2\pi n)$ e $(-\arccos(\frac{1-\sqrt{33}}{8}) + 2\pi n, -\arccos(\frac{1+\sqrt{33}}{8}) + 2\pi n)$, com $n \in \mathbb{Z}$.

(c) Pontos de inflexão em $x = \{-6, 0, 6\}$.

Concavidade para cima em $(-\infty, -6)$, $(-2, 0)$ e $(2, 6)$.

Concavidade para baixo em $(-6, -2)$, $(0, 2)$ e $(6, +\infty)$.

(d) Não possui pontos de inflexão.

(e) Pontos de inflexão em $x = \{-\sqrt{2}, \sqrt{2}\}$.

Concavidade para cima em $(-\sqrt{2}, \sqrt{2})$.

Concavidade para baixo em $(-\infty, -\sqrt{2})$ e $(\sqrt{2}, +\infty)$.

Exercício 4 (a) Lembremos que o domínio da função $\ln(x)$ é o intervalo $(0, +\infty)$. Fixe $b > 0$ e considere $x > 0$. Defina $f(x) := \ln(xb)$ e $g(x) = \ln(x) + \ln(b)$. Derivando cada uma destas funções obtemos

$$f'(x) = \frac{1}{bx}b = \frac{1}{x} \text{ e } g'(x) = \frac{1}{x},$$

portanto $(f - g)'(x) = 0$, logo

$$(f - g)(x) = \ln(xb) - \ln(x) + \ln(b) = c,$$

em todo o intervalo $(0, +\infty)$, para algum $c \in \mathbb{R}$. Como vale para todo $x \in (0, +\infty)$, tome $x = 1$ e temos

$$\ln(b) - \ln(1) + \ln(b) = c \Rightarrow \ln(b) - \ln(b) = c \Rightarrow 0 = c,$$

assim $\ln(xb) - \ln(x) + \ln(b) = 0$, ou seja, $\ln(xb) = \ln(x) + \ln(b)$ para todo $x \in (0, +\infty)$. Portanto,

$$\ln(ab) = \ln(a) + \ln(b).$$

(b) É importante que o domínio de f seja um intervalo para que f seja constante nessas condições. No exemplo $f(x) = \frac{x}{|x|}$ temos $f'(x) = 0$ em todo ponto do domínio. A função f não é constante e, como podemos observar, o domínio de f não é um intervalo.

(c) Seja $f(x) = x^3 + ax^2 + bx + c$, e note que $f'(x) = 3x^2 + 2ax + b$. Assim, f' não tem raiz real se, e somente se, $\Delta = 4a^2 - 12b < 0$, então f' não tem raiz real se, e somente se, $a^2 < 3b$. Logo, para $a^2 < 3b$ a função f não tem máximo ou mínimo. Agora, $f''(x) = 6x + 2a$. Assim, $f''(x) = 0$ se, e somente se, $x = -a/3$. Caso $a^2 = 3b$ segue que $\Delta = 0$ e com isso $x = -a/3$ é raiz de f' . Mas na verdade $x = -a/3$ é um ponto de inflexão, e portanto também nesse ponto a função f não tem máximo ou mínimo. Logo, f não tem máximo ou mínimo se, e somente se, $a^2 \leq 3b$.

(d) $a = -3/2$ e $b = -18$. O máximo é em $x = -2$.

Exercício 5 (a) Temos que $f'(x) = \cos(x)$ e $f''(x) = -\sin(x)$. Assim, $f''(x) = 0$ se, e somente se, $x \in \{k\pi; k \in \mathbb{Z}\}$.

Tomando $a = k\pi - \frac{\pi}{2}$ e $b = k\pi + \frac{\pi}{2}$, temos que $f''(a) = (-1)^k$, enquanto que $f''(b) = (-1)^{k+1}$. Assim, $f''(a) = -f''(b)$, para qualquer $k \in \mathbb{Z}$. Portanto, há uma mudança de concavidade na f , ou seja, $x = k\pi$ é ponto de inflexão.

Além disso, os zeros da função $f(x) = \sin(x)$ são os únicos pontos de inflexão.

(b) Obtemos que $f'(x) = 4x^3 + 3ax^2 + 2bx + c$ e $f''(x) = 12x^2 + 6ax + 2b$. As raízes de $f''(x)$ dependem do valor de $\Delta = 36a^2 - 96b$.

- Se $\Delta < 0$, não existem raízes reais e conseqüentemente não existem pontos de inflexão.

- Se $\Delta = 0$, existe uma única raiz real e consequentemente existe um único ponto de inflexão.
- Se $\Delta > 0$, então f'' possui duas raízes reais (distintas), neste caso, f'' possui dois pontos de inflexão.

Portanto,

- (i) Se $36a^2 - 96b < 0 \Rightarrow 36a^2 < 96b \Rightarrow \frac{6}{16}a^2 < b$, então f não tem ponto de inflexão.
- (ii) Se $36a^2 - 96b = 0 \Rightarrow 36a^2 = 96b \Rightarrow \frac{6}{16}a^2 = b$, então f tem um único ponto de inflexão.
- (iii) Se $36a^2 - 96b > 0 \Rightarrow 36a^2 > 96b \Rightarrow \frac{6}{16}a^2 > b$, então f tem, exatamente, dois pontos de inflexão.

Exercício 6 (a) • $\text{Dom}(f) = \mathbb{R}$;

- $f(x) = 0 \Rightarrow x = 1$;
- $f'(x) = \frac{1}{5x^4} > 0, \forall x \in \text{Dom}(f') = \mathbb{R} \setminus \{0\}$. Portanto, f é crescente em todo seu domínio e não possui pontos críticos;
- $f''(x) = -\frac{4}{25x^5}$. Temos que $f''(x) > 0$ para $x < 0$ e $f''(x) < 0$ para $x > 0$. Portanto, f tem concavidade para baixo em $(0, \infty)$ e concavidade para cima em $(-\infty, 0)$.
- Calculando os limites relevantes, teremos

$$\lim_{x \rightarrow \infty} f(x) = \lim_{x \rightarrow \infty} (x^{1/5} - 1) = \infty$$

$$\lim_{x \rightarrow -\infty} f(x) = \lim_{x \rightarrow -\infty} (x^{1/5} - 1) = -\infty$$

portanto, f não possui assintotas.

- Teremos o seguinte esboço para o gráfico

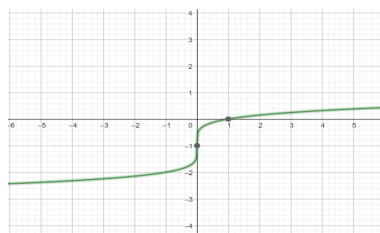


Figura 1: $f(x) = x^{1/5} - 1$

- (b)
- $\text{Dom}(f) = \mathbb{R}$;
 - $f(x) = 0 \Rightarrow x = \{-8, 0\}$;
 - $f'(x) = \frac{8+4x}{3x^{2/3}} = 0 \Rightarrow x = -2$. Portanto, f é crescente em $x > -2$ e decrescente em $x < -2$;

- $f''(x) = \frac{4x-16}{9x^{\frac{5}{3}}} = 0 \implies x = 4$. Temos que $f'' < 0$ em $0 < x < 4$ e $f'' > 0$ em $x < 0$ e $x > 4$. Portanto, f tem concavidade para baixo em $(0,4)$ e concavidade para cima em $(-\infty,0)$ e $(4,\infty)$. Além disso, $x = 4$ é um ponto de inflexão da curva.
- Teremos os seguintes sinais para f' e f'' :

f'		f''		
$x < -2$	$x > -2$	$x < 0$	$0 < x < 4$	$x > 4$
-	+	+	-	+

Analisando os sinais, temos que o ponto $x = -2$ é um ponto de mínimo da função.

- Calculando os limites relevantes, teremos

$$\lim_{x \rightarrow -\infty} 8x^{\frac{1}{3}} + x^{\frac{4}{3}} = -\infty$$

$$\lim_{x \rightarrow \infty} 8x^{\frac{1}{3}} + x^{\frac{4}{3}} = \infty$$

portanto, f não possui assintotas.

- Teremos o seguinte esboço para o gráfico

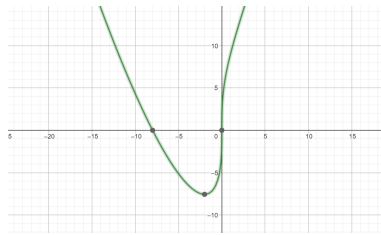


Figura 2: $f(x) = 8x^{\frac{1}{3}} + x^{\frac{4}{3}}$

- (c)
- $\text{Dom}(f) = \mathbb{R}$;
 - $f(x) = 0 \implies x = \frac{1}{4}(4\pi n - \pi), n \in \mathbb{Z}$;
 - $f'(x) = \cos(x) - \text{sen}(x) = 0 \implies x = \frac{1}{4}(4\pi n + \pi), n \in \mathbb{Z}$. Portanto, $x = \frac{1}{4}(4\pi n + \pi), n \in \mathbb{Z}$, são pontos críticos de f .
 - $f''(x) = -\text{sen}(x) - \cos(x) = 0 \implies x = \frac{1}{4}(4\pi n - \pi), n \in \mathbb{Z}$. Portanto, $x = \frac{1}{4}(4\pi n - \pi), n \in \mathbb{Z}$, são pontos de inflexão de f .
 - Como f é periódica, vamos analisar os sinais para f' e f'' num período:

f'		
$-\frac{3\pi}{4} < x < \frac{\pi}{4}$	$\frac{\pi}{4} < x < \frac{5\pi}{4}$	$\frac{5\pi}{4} < x < \frac{9\pi}{4}$
+	-	+

f''		
$-\frac{5\pi}{4} < x < -\frac{\pi}{4}$	$-\frac{\pi}{4} < x < \frac{3\pi}{4}$	$\frac{3\pi}{4} < x < \frac{7\pi}{4}$
+	-	+

- Teremos o seguinte esboço para o gráfico

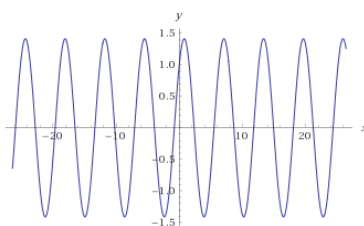


Figura 3: $f(x) = \text{sen}(x) + \text{cos}(x)$

- (d)
- $\text{Dom}(f) = \mathbb{R}^*$;
 - $f(x) \neq 0, \forall x \in \mathbb{R}^*$;
 - $f'(x) = -\frac{e^x}{x^2}$. Note que $f' < 0$ para todo $x \in \mathbb{R}^*$. Portanto, f decrescente em todo seu domínio;
 - $f''(x) = \frac{2e^x}{x^3} + \frac{e^x}{x^4} = 0 \implies x = -\frac{1}{2}$. Temos que $f'' > 0$ em $(0, \infty)$ e $(-\frac{1}{2}, 0)$, e $f'' < 0$ em $(-\infty, -\frac{1}{2})$. Portanto, f tem concavidade para cima em $(0, \infty)$ e $(-\frac{1}{2}, 0)$, e concavidade para baixo em $(-\infty, -\frac{1}{2})$. Além disso, $x = -\frac{1}{2}$ é um ponto de inflexão da curva.
 - Teremos os seguintes sinais para f'' :

$x < -\frac{1}{2}$	$-\frac{1}{2} < x < 0$	$x > 0$
-	+	+

- Calculando os limites relevantes, teremos

$$\lim_{x \rightarrow -\infty} e^{\frac{1}{x}} = 1$$

$$\lim_{x \rightarrow \infty} e^{\frac{1}{x}} = 1$$

$$\lim_{x \rightarrow 0^-} e^{\frac{1}{x}} = 0$$

$$\lim_{x \rightarrow 0^+} e^{\frac{1}{x}} = \infty$$

portanto, f possui assíntota vertical em $x = 0$ e assíntota horizontal em $y = 1$.

- Teremos o seguinte esboço para o gráfico

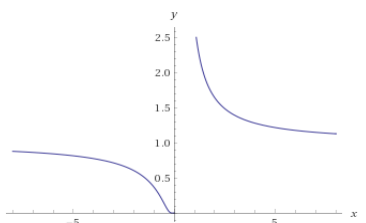


Figura 4: $f(x) = e^{\frac{1}{x}}$

- (e)
- $\text{Dom}(f) = \mathbb{R} \setminus \{-3, 3\}$;
 - $f(x) = 0 \implies x = 0$;
 - $f'(x) = \frac{4x^2 - 36}{(x^2 - 9)^2}$. Note que $f' < 0$ para todo $x \in \mathbb{R} \setminus \{-3, 3\}$. Portanto, f decrescente em todo seu domínio;
 - $f''(x) = \frac{8x(x^2 + 27)}{(x^2 - 9)^3} = 0 \implies x = 0$. Temos que $f'' > 0$ em $(3, \infty)$ e $(-3, 0)$, e $f'' < 0$ em $(-\infty, -3)$ e $(0, 3)$. Portanto, f tem concavidade para cima em $(3, \infty)$ e $(-3, 0)$, e concavidade para baixo em $(-\infty, -3)$ e $(0, 3)$. Além disso, $x = 0$ é um ponto de inflexão da curva.
 - Teremos os seguintes sinais para f'' :

$x < -3$	$-3 < x < 0$	$0 < x < 3$	$x > 3$
-	+	-	+

- Calculando os limites relevantes, teremos

$$\lim_{x \rightarrow -\infty} \frac{4x}{x^2 - 9} = 0$$

$$\lim_{x \rightarrow \infty} \frac{4x}{x^2 - 9} = 0$$

$$\lim_{x \rightarrow -3^-} \frac{4x}{x^2 - 9} = -\infty$$

$$\lim_{x \rightarrow -3^+} \frac{4x}{x^2 - 9} = \infty$$

$$\lim_{x \rightarrow 3^-} \frac{4x}{x^2 - 9} = -\infty$$

$$\lim_{x \rightarrow 3^+} \frac{4x}{x^2 - 9} = \infty$$

portanto, f possui assintota horizontal $y = 0$ e assintotas verticais em $x = 3$ e $x = -3$.

- Teremos o seguinte esboço para o gráfico

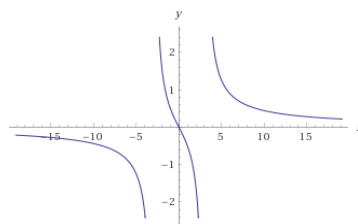


Figura 5: $f(x) = \frac{4x}{x^2 - 9}$

- (f)
- $\text{Dom}(f) = \mathbb{R} \setminus \{\frac{1}{2}\}$;
 - $f(x) = 0 \implies x = \{-2, 1\}$;
 - $f'(x) = \frac{2x^2 - 2x + 3}{(2x - 1)^2}$. Note que $f' > 0$ para todo $x \in \mathbb{R} \setminus \{\frac{1}{2}\}$. Portanto, f crescente em todo seu domínio;

- $f''(x) = -\frac{10}{(2x-1)^3} \neq 0 \forall x \in \mathbb{R} \setminus \{\frac{1}{2}\}$. Temos que $f'' > 0$ em $(-\infty, \frac{1}{2})$ e $f'' < 0$ em $(\frac{1}{2}, \infty)$. Portanto, f tem concavidade para cima em $(-\infty, \frac{1}{2})$ e concavidade para baixo em $(\frac{1}{2}, \infty)$.

- Teremos os seguintes sinais para f'' :

$x < \frac{1}{2}$	$x > \frac{1}{2}$
+	-

- Calculando os limites relevantes, teremos

$$\lim_{x \rightarrow -\infty} \frac{x^2 + x - 2}{2x - 1} = -\infty$$

$$\lim_{x \rightarrow \infty} \frac{x^2 + x - 2}{2x - 1} = \infty$$

$$\lim_{x \rightarrow \frac{1}{2}^-} \frac{x^2 + x - 2}{2x - 1} = +\infty$$

$$\lim_{x \rightarrow \frac{1}{2}^+} \frac{x^2 + x - 2}{2x - 1} = -\infty$$

portanto, f possui assintota vertical em $x = \frac{1}{2}$.

- Teremos o seguinte esboço para o gráfico

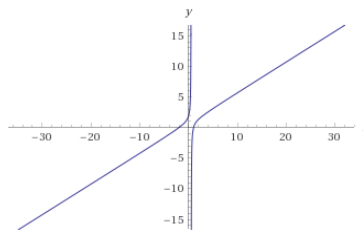


Figura 6: $f(x) = \frac{x^2+x-2}{2x-1}$

Exercício 7 (a)

$$\lim_{x \rightarrow -\frac{5}{2}^+} \frac{8}{(2x+5)^5} = \infty, \quad \lim_{x \rightarrow -\frac{5}{2}^-} \frac{8}{(2x+5)^5} = -\infty$$

$$\lim_{x \rightarrow \infty} \frac{8}{(2x+5)^5} = 0, \quad \lim_{x \rightarrow -\infty} \frac{8}{(2x+5)^5} = 0$$

Assíntota vertical: reta $x = -5/2$.

Assíntota horizontal: reta $y = 0$.

(b)

$$\lim_{x \rightarrow \frac{9}{2}^+} \frac{3x^2}{(2x-9)^2} = \infty, \quad \lim_{x \rightarrow \frac{9}{2}^-} \frac{3x^2}{(2x-9)^2} = \infty$$

$$\lim_{x \rightarrow \infty} \frac{3x^2}{(2x-9)^2} = \frac{3}{4}, \quad \lim_{x \rightarrow -\infty} \frac{3x^2}{(2x-9)^2} = \frac{3}{4}$$

Assíntota vertical: reta $x = 9/2$.

Assíntota horizontal: reta $y = 3/4$.

c)

$$\begin{aligned}\lim_{x \rightarrow -1^+} \frac{2x^2}{x^2 - x - 2} &= -\infty, & \lim_{x \rightarrow -1^-} \frac{2x^2}{x^2 - x - 2} &= \infty \\ \lim_{x \rightarrow 2^+} \frac{2x^2}{x^2 - x - 2} &= \infty, & \lim_{x \rightarrow 2^-} \frac{2x^2}{x^2 - x - 2} &= -\infty \\ \lim_{x \rightarrow \infty} \frac{2x^2}{x^2 - x - 2} &= 2, & \lim_{x \rightarrow -\infty} \frac{2x^2}{x^2 - x - 2} &= 2\end{aligned}$$

Assíntota vertical: retas $x = -1$ e $x = 2$.

Assíntota horizontal: reta $y = 2$.

Exercício 8 (a) f contínua, $f(0) = 4$, $f(2) = 2$, $f(5) = 6$;

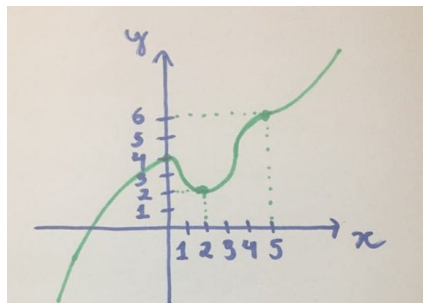
$f'(0) = f'(2) = 0$, ou seja, 0 e 2 são pontos críticos;

$f'(x) > 0$ se $|x - 1| > 1$, ou seja, f crescente;

$f'(x) < 0$ se $|x - 1| < 1$, ou seja, f decrescente;

$f''(x) < 0$ se $x < 1$ ou se $|x - 4| < 1$, ou seja, f tem concavidade para baixo;

$f''(x) > 0$ se $x > 5$ ou se $|x - 2| < 1$, ou seja, f tem concavidade para cima.



(b) f contínua, $f(0) = 2$, $f(2) = 1$, $f(4) = f(10) = 0$, $f(6) = -4$;

$f'(2) = f'(6) = 0$, ou seja, 2 e 6 são pontos críticos;

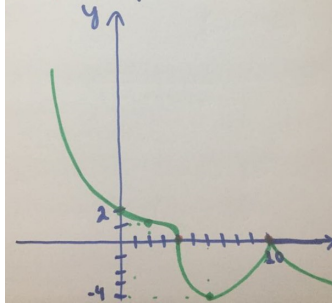
$f'(x) < 0$ em $(-\infty, 4)$, $(4, 6)$ e $(10, \infty)$, ou seja, f decrescente;

$f'(x) > 0$ em $(6, 10)$, ou seja, f crescente;

não existem $f'(4)$ e $f'(10)$, ou seja, retas tangentes não definidas em 4 e 10;

$f''(x) > 0$ em $(-\infty, 2)$, $(4, 10)$ e $(10, \infty)$, ou seja, f tem concavidade para cima;

$f''(x) < 0$ em $(2, 4)$, ou seja, f tem concavidade para baixo.



(c) $f(2) = 4$;

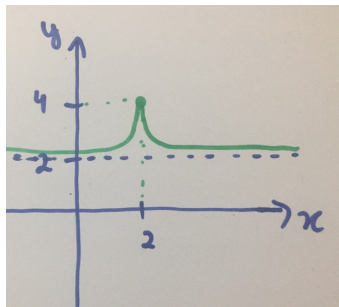
$f'(x) > 0$ se $x < 2$, ou seja, f crescente;

$f'(x) < 0$ se $x > 2$, ou seja, f decrescente;

$f''(x) > 0$ se $x \neq 2$, ou seja, f tem concavidade para cima;

$\lim_{x \rightarrow 2} |f'(x)| = +\infty$, ou seja, $x = 2$ é uma assíntota vertical;

$\lim_{x \rightarrow +\infty} f(x) = 2$, $\lim_{x \rightarrow -\infty} f(x) = 2$, ou seja, $y = 2$ é uma assíntota horizontal.



Exercício 9 (a) $f(x) = x + \frac{2}{x^2}$, logo $f'(x) = 1 - \frac{4}{x^3}$. Assim, $f'(x) < 0$ em $(-\infty, 0)$ e $(2^{\frac{2}{3}}, \infty)$ e $f'(x) > 0$ em $(0, 2^{\frac{2}{3}})$. Além disso, $f'(x) \neq 0, \forall x$. Portanto, f é crescente em $(0, 2^{\frac{2}{3}})$, decrescente em $(-\infty, 0)$ e $(2^{\frac{2}{3}}, \infty)$, além disso f não possui ponto crítico.

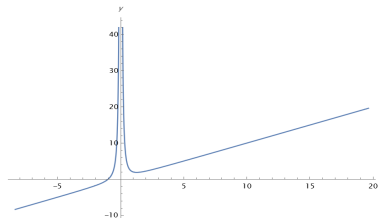


Figura 7: $f(x) = x + \frac{1}{x^2}$

(b) $f(x) = \frac{2x^2+4x}{2+x^2}$, logo $f'(x) = \frac{-4x^2+8x+8}{(2+x^2)^2}$. Assim, $f'(x) < 0$ em $(-\infty, 1-\sqrt{3})$ e $(1+\sqrt{3}, \infty)$ e $f'(x) > 0$ em $(1-\sqrt{3}, 1+\sqrt{3})$. Além disso, $f'(x) = 0$ se $x = \{1-\sqrt{3}, 1+\sqrt{3}\}$. Portanto,

f é crescente em $(1 - \sqrt{3}, 1 + \sqrt{3})$, decrescente em $(-\infty, 1 - \sqrt{3})$ e $(1 + \sqrt{3}, \infty)$ e $x = \{1 - \sqrt{3}, 1 + \sqrt{3}\}$ são pontos críticos.

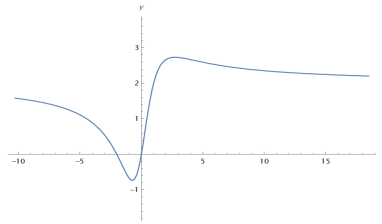


Figura 8: $\frac{2(x^2+2x)}{x^2+2}$

(c) $f(x) = x^x$, $x > 0$, logo $f'(x) = x^x(\ln x + 1)$. Assim, $f'(x) < 0$ em $(0, \frac{1}{e})$ e $f'(x) > 0$ em $(\frac{1}{e}, \infty)$. Além disso, $f'(\frac{1}{e}) = 0$. Portanto, f é crescente em $(\frac{1}{e}, \infty)$, decrescente em $(0, \frac{1}{e})$ e $x = \frac{1}{e}$ é ponto crítico.

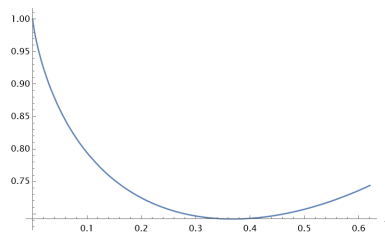


Figura 9: x^x

Exercício 10 (a) • $\text{Dom}(f) = \{x \in \mathbb{R} \mid x > 0\}$;

- $f(x) = 0 \implies x = 1$;
- $f'(x) = \ln(x) + 1 = 0 \implies x = \frac{1}{e}$. Portanto, f é decrescente em $(0, \frac{1}{e})$ e crescente em $(\frac{1}{e}, \infty)$;
- $f''(x) = \frac{1}{x}$, portanto $f'(x) > 0$ para todo $x \in \text{Dom}(f)$, portanto a função tem concavidade para cima em todo seu domínio, portanto a função não possui nenhum ponto de inflexão.
- Teremos os seguintes sinais para f' e f'' :

f'		f''
$0 < x < \frac{1}{e}$	$x > \frac{1}{e}$	$x > 0$
-	+	+

Analisando os sinais, temos que o ponto $x = \frac{1}{e}$ é um ponto de mínimo da função.

- Calculando os limites relevantes, teremos

$$\lim_{x \rightarrow 0^+} x \ln(x) = 0$$

$$\lim_{x \rightarrow \infty} x \ln(x) = \infty$$

portanto, $f(x)$ não possui assintotas.

- Teremos o seguinte esboço para o gráfico

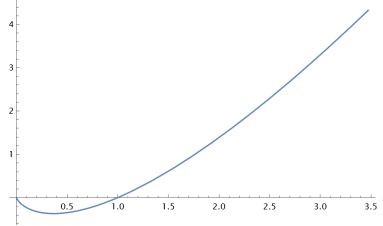


Figura 10: $f(x) = x \ln(x)$

- (b)
- $\text{Dom}(f) = \mathbb{R}$;
 - $f(x) = 0 \implies x = 0$;
 - $f'(x) = \frac{3x^2+x^4}{(1+x^2)^2} = 0 \implies x = 0$. Portanto, f é crescente em $x \in \mathbb{R}$;
 - $f''(x) = -\frac{6x+4x^3-2x^5}{(1+x^2)^4} = 0 \implies x = \{-\sqrt{3}, 0, \sqrt{3}\}$. Temos que $f'' < 0$ em $(-\sqrt{3}, 0)$ e $(\sqrt{3}, \infty)$ e $f'' > 0$ em $(-\infty, -\sqrt{3})$ e $(0, \sqrt{3})$. Portanto, f tem concavidade para baixo em $(-\sqrt{3}, 0)$ e $(\sqrt{3}, \infty)$, e concavidade para cima em $(-\infty, -\sqrt{3})$ e $(0, \sqrt{3})$. Além disso, $x = \{-\sqrt{3}, 0, \sqrt{3}\}$ são pontos de inflexão da curva.
 - Teremos os seguintes sinais para f' e f'' :

f'		f''			
$x < 0$	$x > 0$	$x < -\sqrt{3}$	$-\sqrt{3} < x < 0$	$0 < x < \sqrt{3}$	$x > \sqrt{3}$
+	+	+	-	+	-

Analisando os sinais, notamos que o ponto $x = 0$ não é um ponto nem de mínimo nem de máximo.

- Calculando os limites relevantes, teremos

$$\lim_{x \rightarrow -\infty} \frac{x^3}{1+x^2} = -\infty$$

$$\lim_{x \rightarrow \infty} \frac{x^3}{1+x^2} = \infty$$

portanto, $f(x)$ não possui assintotas.

- Teremos o seguinte esboço para o gráfico

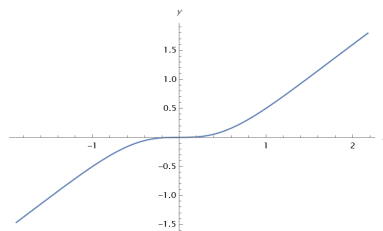


Figura 11: $f(x) = \frac{x^3}{(1+x^2)}$

- (c)
- $\text{Dom}(f) = \mathbb{R}$;
 - $f(x) = 0 \implies x = 0$;
 - $f'(x) = e^{-2x}(1 - 2x) = 0 \implies x = \frac{1}{2}$. Portanto, f é crescente em $x < \frac{1}{2}$ e decrescente em $x > \frac{1}{2}$;
 - $f''(x) = 4e^{-2x}(x - 1) = 0 \implies x = 1$. Temos que $f'' < 0$ em $x < 1$ e $f'' > 0$ em $x > 1$. Portanto, f tem concavidade para baixo em $x < 1$ e concavidade para cima em $x > 1$. Além disso, $x = 1$ é um ponto de inflexão da curva.
 - Teremos os seguintes sinais para f' e f'' :

f'		f''	
$x < \frac{1}{2}$	$x > \frac{1}{2}$	$x < 1$	$x > 1$
+	-	-	+

Analisando os sinais, temos que o ponto $x = \frac{1}{2}$ é um ponto de máximo da função.

- Calculando os limites relevantes, teremos

$$\lim_{x \rightarrow -\infty} xe^{-2x} = -\infty$$

$$\lim_{x \rightarrow \infty} xe^{-2x} = 0$$

portanto, $f(x)$ possui uma assintota horizontal $x = 0$.

- Teremos o seguinte esboço para o gráfico

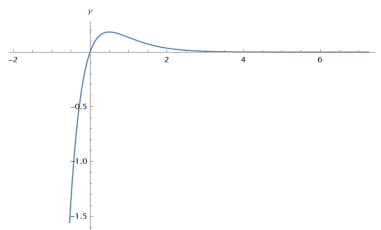


Figura 12: $f(x) = xe^{-2x}$

Exercício 11 Para sabermos a distância entre dois pontos $p_1 = (a, b)$ e $p_2 = (c, d)$ se usa a equação $\Delta S = \|p_1 - p_2\| = \sqrt{(a - c)^2 + (b - d)^2}$. Com isso apenas temos que definir quem são os pontos p_1 e p_2 .

De acordo com a equação da curva $y = 2/x$ podemos escrever p_1 como $p_1 = (x, 2/x)$, enquanto o ponto p_2 pode ser a origem $p_2 = (0, 0)$.

Com esses valores definidos podemos jogá-los na equação da distância, o que resulta em $\Delta S = \sqrt{(x - 0)^2 + (2/x - 0)^2} = \sqrt{(x)^2 + (2/x)^2} = \sqrt{\frac{x^4 + 4}{x^2}} = \frac{\sqrt{x^4 + 4}}{x}$.

Para determinarmos o valor de x em que a distância ΔS é mínima temos que encontrar os seus pontos de máximo e mínimo, e para isso podemos nos utilizar da derivada.

Sendo $\Delta S(x) = \frac{\sqrt{x^4 + 4}}{x}$, temos que os pontos em que $\Delta S'(x) = 0$ são os pontos onde a função pode ser um mínimo.

Assim fazemos que $\Delta S'(x) = \frac{d\sqrt{x^4+4}}{dx} = \frac{1}{2} \frac{4x^3}{\sqrt{x^4+4}} = \frac{2x^3}{\sqrt{x^4+4}}$.

Para $\Delta S'(x) = 0$, $x^4 - 4 = 0$ sem que $x^2\sqrt{x^4+4} = 0$, o que é cumprido para $x = \sqrt{2}$.

Portanto, o valor de x que faz com que $y = 2/x$ fique o mais próximo possível da origem é $x = \sqrt{2}$, que é o ponto $(\sqrt{2}, \sqrt{2})$.

Exercício 12 Nessa questão usa-se a mesma ideia que foi usada anteriormente. Pelo posição de P ser dada pela função $x = \sqrt{t}$, sua posição $p_P = (\sqrt{t}, 0)$.

Já pela de Q ser representada por $y = t^2 - 3/4$, temos que $p_Q = (0, t^2 - 3/4)$.

Com isso podemos escrever a função $\Delta S(t)$ que descreve a distância entre eles no tempo como $\Delta S(t) = \sqrt{(\sqrt{t} - 0)^2 + (0 - (t^2 - 3/4))^2} = \sqrt{t + (3/4 - t^2)^2} = \sqrt{t^4 - 3/2t^2 + t + 9/16}$.

Com essa função podemos encontrar os pontos mínimos ao calcular o t em que $\Delta S'(t) = 0$: $\Delta S'(t) = \frac{1}{2} \frac{4t^3 - 3t + 1}{\sqrt{t^4 - 3/2t^2 + t + 9/16}}$, assim temos que achar $t \geq 0$ que faz com que $4t^3 - 3t + 1 = 0$

e $\sqrt{t^4 - 3/2t^2 + t + 9/16} \neq 0$.

Temos que $t = -1$ é raiz de $4t^3 - 3t + 1$, portanto podemos escrever a equação como $4t^3 - 3t + 1 = (t + 1)(4t^2 - 4t + 1)$, assim apenas temos encontrar as raízes de $4t^2 - 4t + 1$.

Usando Bhaskara temos $\Delta = 16 - 4 \cdot 4 = 0 \rightarrow t = \frac{4}{8} = 1/2$.

Assim descobrimos que para $t = 1/2$ a distância entre P e Q é a mínima.

Exercício 13 Considere $f(x) = x^2 - 2x + 1$. Assim, $f'(x) = 2x - 2$ e conseqüentemente, $x = 1$ é ponto crítico.

Note que f é decrescente em $(-\infty, 1)$ e crescente em $(1, \infty)$, logo $x = 1$ é o ponto mínimo global de f . Assim, $f(x) \geq f(1) = 0$, para todo $x \in \mathbb{R}$.

Isso implica que $x^2 + 1 \geq 2x$, para todo x .

Em particular, vale a equação acima para $x = a$, $x = b$, $x = c$ e $x = d$. Multiplicando essas quatro equações, obtemos

$$(a^2 + 1)(b^2 + 1)(c^2 + 1)(d^2 + 1) \geq 2a2b2c2d.$$

Logo,

$$\frac{(a^2 + 1)(b^2 + 1)(c^2 + 1)(d^2 + 1)}{abcd} \geq 16.$$

Exercício 14 Assuma que x e y são respectivamente a base e a altura do retângulo, isso significa que o perímetro para a parte retangular é $x + 2y$ e do semicírculo $\pi \frac{x}{2}$.

Com isso temos que $x + 2y + \pi \frac{x}{2} = 6u.c$, ou seja $y = 3 - \frac{2+\pi}{4}x$.

De acordo com a questão, a parte do semicírculo deixa menos luz passar, portanto podemos criar a função sobre a passagem de luz $L(x, y) = x \cdot y + \frac{2}{3} \left(\frac{x}{2}\right)^2 \frac{\pi}{2} = x \cdot y + \frac{\pi}{12}x^2 = x(y + \frac{\pi}{12}x) = x(3 - \frac{2+\pi}{4}x + \frac{\pi}{12}x) = x(\frac{36 - (6+2\pi)x}{12}) = \frac{36x - (6+2\pi)x^2}{12}$.

Assim temos que a luz que passa é definida por $L(x) = \frac{36x - (6+2\pi)x^2}{12}$, e para encontrar o seu máximo temos que achar os valores de x para quais $L'(x) = 0 = \frac{36 - (6+2\pi)2x}{12} = \frac{9 - (3+\pi)x}{3}$, que é $x = \frac{9}{3+\pi}$.

Portanto, o vitral tem máxima passagem de luz para $x = \frac{9}{3+\pi} \approx 1.46u.c$ e $y = 3 - \frac{2+\pi}{4} \cdot \frac{9}{3+\pi} \approx 1.12u.c$.

Exercício 15 Defina a função $f(x) := d((x, y), (x_1, y_1))^2 = (x - x_1)^2 + (y - y_1)^2$, que representa o quadrado da distância do ponto (x_1, y_1) a um ponto genérico (x, y) pertencente a reta $ax + by + c = 0$. Basta então encontrar o valor mínimo de f e conseguiremos o mínimo para a distância entre (x_1, y_1) e a reta.

Usando $y = -\frac{(ax+c)}{b}$ e derivando f observamos que $f'(x_0) = 0$ para x_0 dado por

$$x_0 = \frac{b^2x_1 - aby_1 - ac}{(a^2 + b^2)}.$$

Para esse valor temos

$$f(x_0) = \frac{(ax_1 + by_1 + c)^2}{a^2 + b^2}. \quad (1)$$

Agora note que para qualquer $x \in \mathbb{R}$ vale

$$f'(x) = \frac{2(a^2 + b^2)}{b^2}(x - x_0).$$

Assim, para $x > x_0$ segue que $f'(x) > 0$; para $x < x_0$ temos $f'(x) < 0$. Portanto, pelo teste da primeira derivada concluímos que (1) é o valor mínimo atingido por f .

Finalmente o mínimo para a distância é

$$d((x_0, y_0), (x_1, y_1)) = \frac{|ax_1 + by_1 + c|}{\sqrt{a^2 + b^2}}.$$

Exercício 16 Primeiramente perceba que $\lim_{x \rightarrow \infty} = \infty$ e $\lim_{x \rightarrow -\infty} = -\infty$, pois é uma função polinomial. Agora, $f(-2) = -14$ e $f(-1) = 2$, ou seja, há uma mudança de sinal e como f é contínua pelo teorema do valor intermediário existe $c \in [-2, -1]$, tal que $f(c) = 0$. Vamos verificar que f , não tem mais raízes reais. De fato, vamos usar sua derivada, $f'(x) = 3x^2 - 6x$. Com isso, f é estritamente decrescente no intervalo $[0, 2]$ e $f(x) > 0$ para todo $x \in [0, 2]$. Além disso, f é estritamente crescente $(-\infty, 0)$ e $(2, \infty)$, com apenas uma mudança de sinal no intervalo $[-2, -1]$. Portanto, f admite apenas uma raiz real. E como pode-se notar, o intervalo em que descobrimos que $f(x) = 0$ é o intervalo $x \in [-2, -1]$, que têm amplitude 1.

Exercício 17 Considere a função $f(x) = \sin(x) - x + \frac{x^3}{3!}$. Note que $f(0) = 0$. Vamos verificar que, esta função é estritamente crescente. Para isso perceba que f é derivável para $x > 0$, logo

$$f'(x) = \cos(x) + \frac{x^2}{2} - 1.$$

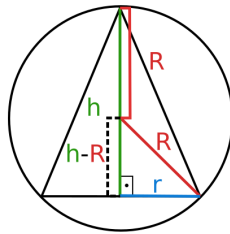
Note que $f'(x) > 0$ para $x > 0$ e assim f é estritamente crescente no intervalo $(0, +\infty)$, como $f(0) = 0$, temos que $f(x) > 0$ para todo $x \in (0, +\infty)$ e dessa forma, $\sin(x) > x + \frac{x^3}{3!}$.

Exercício 18 (a) Queremos $x > 0$ tal que $x + \frac{1}{x^2}$ seja o mínimo possível. Seja $f(x) = x + \frac{1}{x^2}$. Derivando $f'(x) = 1 - \frac{2}{x^3} = \frac{x^3 - 2}{x^3}$, logo $f'(x) = 0$ se, e somente se, $2 - x^3 = 0$

e com isso $x = \sqrt[3]{2}$. Agora, para $x \in (0, \sqrt[3]{2})$ a função é estritamente decrescente, pois $f'(x) < 0$. Contudo, para $x > \sqrt[3]{2}$, $f'(x) > 0$ o que torna f estritamente crescente, logo $\sqrt[3]{2}$ é ponto de mínimo.

- (b) Os números positivos procurados são x e y tais que $y + x = 16$, ou seja, $y = 16 - x$. Seja $f(x) = xy = x(16 - x)$. Então $f'(x) = 16 - 2x$. Temos $f'(x) = 0$ para $x = 8$. Mas, para $x \in (0, 8)$ $f'(x) > 0$ o que torna estritamente crescente e para $x \in (8, 16)$ temos $f'(x) < 0$ o que torna f estritamente decrescente, logo $x = 8$ é máximo local. Portanto, os números procurados são $x = 8$ e $y = 8$.

Exercício 19 Primeiro temos que ver como as medidas do raio da esfera, R , o raio do cone r e a altura do cone h se relacionam quando o cone é inscrito na esfera. Fazendo um desenho lateral da situação notamos que essas medidas formam um triângulo retângulo.



E relacionando os lados com o teorema de Pitágoras chegamos na fórmula $R^2 = r^2 + (h - R)^2$. Desenvolvendo, obtemos $r^2 = 2hR - h^2$. Da fórmula do volume do cone $V = \frac{1}{3}\pi r^2 h$, substituindo o valor de r^2 , obtemos que o volume é escrito em função de h ,

$$V(h) = \frac{\pi}{3}2h^2R - h^3.$$

Derivando em relação a h , $V'(h) = \frac{\pi}{3}h(4R - h)$ e isso é zero se, e somente se, $h = \frac{4}{3}R$, já que h não pode ser zero. Logo, para $h \in (0, \frac{4}{3}R)$, $V'(h) > 0$ o que torna V estritamente crescente e se $h \in (\frac{4}{3}R, 2R)$, $V'(h) < 0$ o que torna V estritamente decrescente. Portanto, $\frac{4}{3}R$ é ponto de máximo local, ou seja, a altura de um cone circular reto, de volume máximo, inscrito em uma esfera de raio R é dado por $h = \frac{4}{3}R$.

Exercício 20 Como um lado já está protegido, temos que um retângulo de lados x e y tem comprimento $C = x + 2y$. Além disso, por hipótese, $x \cdot y = 50$, logo $y = \frac{50}{x}$. Substituindo no comprimento, e considerando a função $f(x) = x + \frac{100}{x}$. Derivando, $f'(x) = 1 - \frac{100}{x^2} = \frac{x^2 - 100}{x^2}$. Então, $f'(x) = 0$ se, e somente se, $x = \pm 10$. Mas como estamos lidando com medidas, descartamos o número negativo. Agora se, $x > 10$ $f'(x) >$

0 então f é estritamente crescente, caso contrário $f'(x) < 0$ então f é estritamente decrescente, o que torna $x = 10$ um ponto de mínimo da função. Como $y = \frac{50}{x}$ segue que para $x = 10$ temos $y = 5$ e assim, os comprimentos da cerca de menor comprimento é 5m e 10m.

Exercício 21 Temos que $V_{cil} = 1 = A_b h = \pi r^2 h$, logo $r^2 h = \frac{1}{\pi}$. Além disso, $A_{lateral} + A_b = 2\pi r h + \pi r^2$ e assim $Custo_{lat+fundo} = 5(2\pi r h + \pi r^2)$. Como $A_{tampa} = \pi r^2$, logo $Custo_{tampa} = 10\pi r^2$. Assim, a função custo total é

$$\begin{aligned} C &= Custo_{lat+fundo} + Custo_{tampa} = 10\pi r^2 + 10\pi r h + 5\pi r^2 \\ &= 15\pi r^2 + 10\pi r h \\ &= 5\pi (3r^2 + 2rh) \\ &= 5\pi \left(3r^2 + 2r \left(\frac{1}{\pi r^2} \right) \right) \\ &= 5\pi \left(3r^2 + \frac{2}{\pi r} \right). \end{aligned}$$

Logo, $C' = 5\pi(6r - \frac{2}{\pi r^2})$. Então, para minimizar o custo, temos que $C' = 0$, isto é

$$\begin{aligned} 6r - \frac{2}{\pi r^2} &= 0 \\ 6r^3 - \frac{2}{\pi} &= 0 \\ r^3 &= \frac{1}{3\pi} \\ r &= \frac{1}{\sqrt[3]{3\pi}}. \end{aligned}$$

Portanto, as dimensões da caixa que minimizem o custo do material empregado vão ter que ser $r = \frac{1}{\sqrt[3]{3\pi}}$ e $h = \frac{1}{\pi r^2} = \sqrt[3]{\frac{9}{\pi}}$.

Exercício 22 (a) Seja h a altura da pirâmide e r o raio do círculo circunscrito base. Logo, $h^2 = l^2 - r^2$. Por outro lado, como a pirâmide tem n faces, tem-se $n-1$ faces laterais e assim, a circunferência circunscrita determina no polígono da base os ângulos centrais de medida $\alpha = \frac{2\pi}{n-1}$ radianes. Com isto, $A_{base} = (n-1) \frac{r \cdot r \cdot \text{sen} \alpha}{2}$. Logo, tem-se a função

$$\begin{aligned} f &= V_{pir} h = \frac{A_{base} h \cdot h}{3} \\ &= (n-1) \frac{h^2 r^2}{6} \text{sen} \left(\frac{2\pi}{n-1} \right) \\ &= \frac{r^2 (n-1) (l^2 - r^2) \text{sen} \left(\frac{2\pi}{n-1} \right)}{6} \\ &= -\frac{(n-1) \text{sen} \left(\frac{2\pi}{n-1} \right) r^4}{6} + \frac{(n-1) \text{sen} \left(\frac{2\pi}{n-1} \right) l^2 r^2}{6}. \end{aligned}$$

Como queremos que dita função atinja o máximo e dita função é uma parábola, tem-se que

$$\begin{aligned} r^2 &= -\frac{\frac{(n-1)\operatorname{sen}\left(\frac{2\pi}{n-1}\right)l^2}{6}}{-2\frac{(n-1)\operatorname{sen}\left(\frac{2\pi}{n-1}\right)}{6}} \\ &= \frac{l^2}{2}, \end{aligned}$$

$$\text{logo } r = \frac{l\sqrt{2}}{2}.$$

(b) A expressão desse produto máximo é

$$\begin{aligned} f &= -\frac{(n-1)\operatorname{sen}\left(\frac{2\pi}{n-1}\right)l^4}{24} + \frac{(n-1)\operatorname{sen}\left(\frac{2\pi}{n-1}\right)l^4}{12} \\ &= \frac{(n-1)l^4}{24}\operatorname{sen}\left(\frac{2\pi}{n-1}\right). \end{aligned}$$

Exercício 23 Temos que $x'(t) = v(t) = 2t - 3$, logo fazendo a integração indefinida teremos que $x(t) = t^2 - 3t + C$. Mas como temos que no instante $t = 0$, a posição da partícula é $x = 5$, logo $x(t) = t^2 - 3t + 5$. Assim, para achar o mínimo precisamos que $x'(t) = 0$, isto é $2t - 3 = 0$, e portanto o mínimo vai ser atingido no instante $t = \frac{3}{2}$.

Exercício 24 A área do sólido é $A_{\text{sol}} = 2\pi rh + 2\pi r^2 + \pi r^2 = 5\pi$, assim $rh = \frac{5-3r^2}{2}$. O volume do sólido é $V = \pi r^2 h + \frac{2\pi r^3}{3}$, logo,

$$\begin{aligned} V &= \pi r \left(\frac{5-3r^2}{2} \right) + \frac{2\pi r^3}{3} \\ &= \frac{5\pi r}{2} - \frac{5\pi r^3}{6}. \end{aligned}$$

Para que o volume seja máximo, devemos ter que

$$\begin{aligned} 0 &= V' = \frac{5\pi}{2} - \frac{5\pi r^2}{2} \\ \frac{5\pi}{2} &= \frac{5\pi r^2}{2} \\ r &= 1, \end{aligned}$$

$$\text{logo } h = \frac{5-3}{2} = 1.$$

Exercício 25 Seja L o lucro pela venda e x o número de centavos. Notemos que o preço de venda e a quantidade a ser vendida de acordo com as condições do problema são $1.50 - 0.01x$ e $500 + 25x$, respectivamente. Da mesma maneira o preço de compra é de 0.70 . Logo, a função L é

$$\begin{aligned} L(x) &= (1.50 - 0.01x)(500 + 25x) - 0.70(500 + 25x) \\ &= (0.80 - 0.01x)(500 + 25x) \\ &= 400 + 15x - 0.25x^2. \end{aligned}$$

Para maximizar o lucro devemos ter que

$$0 = L'(x) = 15 - 0.5x$$

$$x = 30.$$

Logo, o preço de venda para maximizar o lucro deve ser de $1.5 - 0.01(30) = 1.20$ unidades monetárias.

Exercício 26 Fórmulas:

$$V_1 = \frac{\pi \cdot R^2 \cdot H}{3}$$

$$V_2 = \pi \cdot r^2 \cdot h = 2\pi \cdot r^3$$

Observando a figura abaixo,

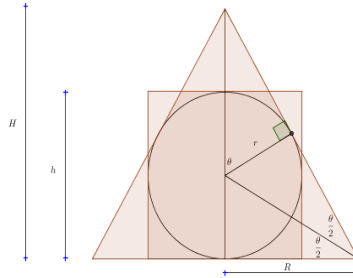


Figura 13: Projeção em 2D do exercício

temos

$$\tan \theta = \frac{H}{R}$$

$$\tan \frac{\theta}{2} = \frac{r}{R}$$

$$h = 2r$$

Do enunciado,

$$k = \frac{V_1}{V_2} = \frac{R^2 \cdot H}{6r^3} = \frac{\tan \theta}{6 \tan^3 \frac{\theta}{2}}$$

O valor mínimo será encontrado derivando a função, mas para facilitar vamos transformar,

$$k = \frac{\frac{\sin \theta}{\cos \theta}}{6 \frac{\sin^3 \frac{\theta}{2}}{\cos^3 \frac{\theta}{2}}}$$

$$k = \frac{2 \sin \frac{\theta}{2} \cos^4 \frac{\theta}{2}}{6 \sin^3 \frac{\theta}{2} (1 - 2 \sin^2 \frac{\theta}{2})}$$

Arrumando,

$$k = \frac{(1 - \sin^2 \frac{\theta}{2})^2}{3 \sin^2 \frac{\theta}{2} (1 - 2 \sin^2 \frac{\theta}{2})}$$

Fazendo

$$\sin^2 \frac{\theta}{2} = a$$
$$k = \frac{(1-a)^2}{3a(1-2a)}$$

Pra encontrar o mínimo de k , devemos fazer

$$k' = 0$$

Sabemos que,

$$\left(\frac{f(x)}{g(x)} \right)' = \frac{f'(x) \cdot g(x) - f(x) \cdot g'(x)}{[g(x)]^2}$$

Assim temos,

$$k' = \frac{2(1-a)(-1)(3a(1-2a)) - (1-a)^2[3(1-2a) + 3a(-2)]}{[3a(1-2a)]^2}$$

Desenvolvendo encontramos,

$$k' = \frac{(a-1)(1-3a)}{3a^2(1-2a)}$$

Desta forma encontramos,

$$a = 1$$

$$a = \frac{1}{3}$$

Portanto o valor mínimo será:

$$k = \frac{(1 - \frac{1}{3})^2}{3 \cdot \frac{1}{3} (1 - 2 \cdot \frac{1}{3})}$$

$$\therefore k = \frac{4}{3}$$